

INTERCULTURA MATEMATICA

L'ALBERO DELLE MELE

● Leggi e completa.

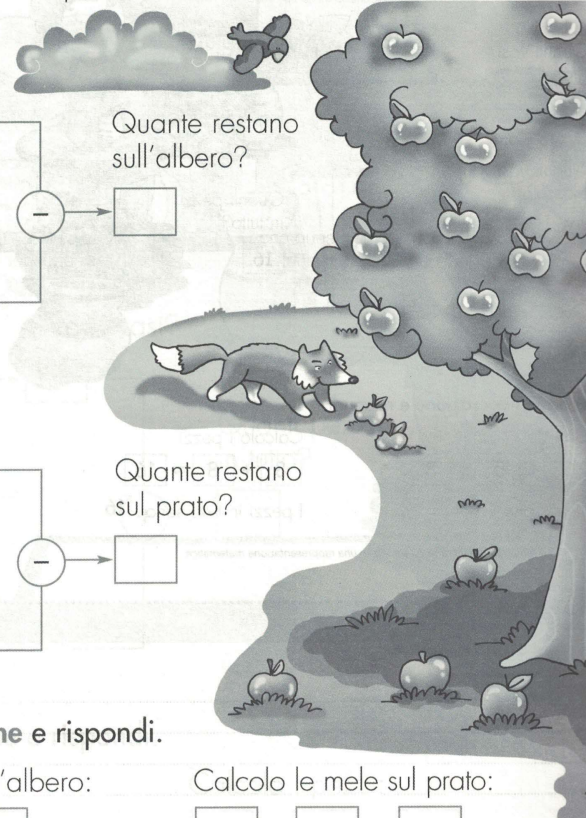
Sull'albero sono nate 20 mele. 7 mele cadono, perché sono mature.

Quante mele restano sull'albero?

Una volpe passa nel prato e si mangia 2 mele.

Quante mele restano sul prato?

Quante mele sono nate?



Quante restano sull'albero?

Quante cadono?

Quante mele sul prato?

Quante restano sul prato?

Quante ne mangia la volpe?

● Scrivi l'operazione e rispondi.

Calcolo le mele sull'albero:

$$\square - \square = \square$$

Calcolo le mele sul prato:

$$\square - \square = \square$$

Sull'albero restano mele.

Sul prato restano mele.



1



1



1


3



1




5



8



10




=

.....



Suggerimento
↓



Suggerimento



Parti dalla prima fila e scrivi sotto ogni prodotto il suo valore.



8



8



8



16



13



12



19



=

.....





Suggerime




Suggerimento

Cerca la fila giusta per cominciare.








Quanti bicchieri?
.....



Suggerimento

Guarda la prima bilancia e nascondi con le dita due bicchieri per parte.





Suggerimento



Suggerimento

Guarda la prima bilancia
e nascondi un tulipano per piatto.



Suggerimento
↓




Suggerimento

Per cominciare confronta
le prime due file.

Tot: 29

Suggerimento

Scrivi il valore accanto a ogni prodotto cominciando da quelli già presenti.
 Alla fine troverai la soluzione.



16

20

Strawberry =

Suggerimento ↓

Suggerimento

Cancella gli oggetti che si ripetono in entrambi i gruppi.